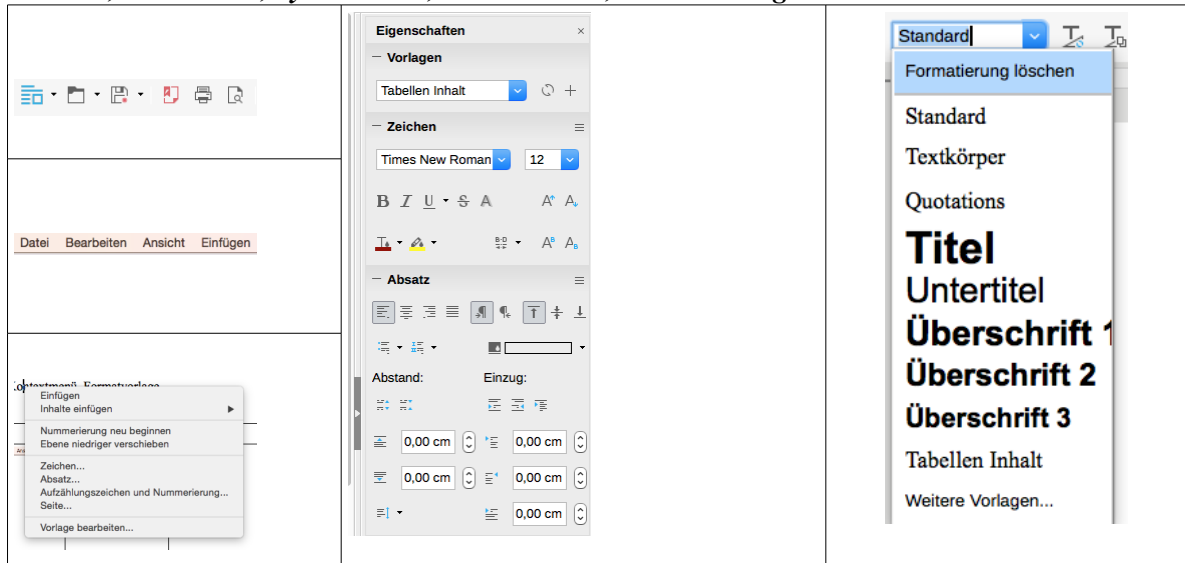



**Programmsteuerung**

Das Büro-Software Paket **LibreOffice** lässt sich auf vielfältige Weise steuern.

a) Ordnen Sie den Abbildungen in der Tabelle die Art der Steuerungselemente zu:

**Menü-Leiste, Seitenleiste, Symbolleiste, Kontextmenü, Formatvorlage**



Die beiden folgenden Abbildungen zeigen einen Ausschnitt des gleichen Dokuments. Einmal sind die unsichtbaren **Steuerzeichen** eingeblendet. Dazu wird in der Symbolleiste der Knopf  gedrückt.

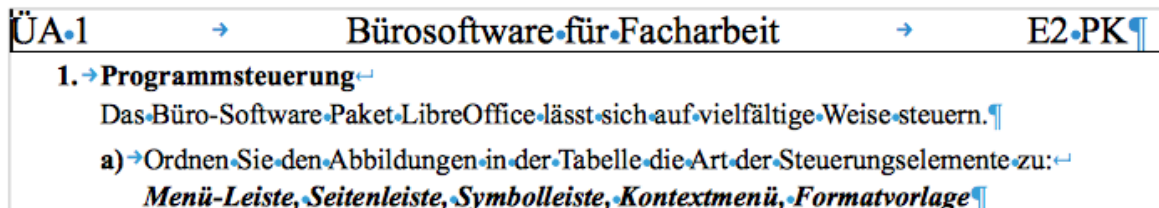
**1. Programmsteuerung**

Das Büro-Software Paket LibreOffice lässt sich auf vielfältige Weise steuern.

a) Ordnen Sie den Abbildungen in der Tabelle die Art der Steuerungselemente zu:

**Menü-Leiste, Seitenleiste, Symbolleiste, Kontextmenü, Formatvorlage**

1. Abbildung: gestaltetes Dokument ohne Steuerzeichen



2. Abbildung: gestaltetes Dokument mit Steuerzeichen

b) Ergänzen Sie die Tabelle für die im Beispiel benutzten Steuerzeichen.

Steuerzeichen	Ansicht, wenn eingeblendet	Aufgabe, Wirkung
Leerzeichen		
Tabulatoren		
harter Umbruch		
weicher Umbruch		
Absatz		

c) Beschreiben Sie den Unterschied zwischen einem **Zeichen** und einen **Steuerzeichen**.